

指導ポイント&ヒント

第8課 「3はこぶんでいくつになりますか。」

【指導内容】① 掛け算を適用する場面に慣れる。

【日本語】① 「A個分で」「何個になるか」などの言い方の復習。

【概念図】

① 単位となる量を表す図を見て、それがA個あると全体でいくつになるかを式で表し、九九を用いて答えを出させる。

② 掛け算を適用する「場面」と「言葉」と「式」の結びつきを強固なものにさせる。

【指導例】① 単位となる量を表す図を見て、それがA個あると全体でいくつになるかを式で表し、九九を用いて答えを出させる。

(1) 1箱にりんごが何個入っているかを尋ねる。

(2) 問題文を読ませる。

(3) 「これが3箱ですよ。頭の中に絵を描いて。」と言う。

(4) 「1箱に5個で3箱分だから、どんな式になりますか？」と言って答えを待つ。

*口で答えるのは難しいので、書かせてもよい。

(5) 式が答えられなかったら、 $\square \times \square = \square$ という式をテキストの余白に書いてやる。

(6) それでも答えられない場合は、 $\square \times \square = \square$ の下に、「なんこずつ?」「なんはこ?」と書いてやる。

$$\square \times \square = \square$$

↑ ↑

なんこずつ? なんはこ?

(7) $\square \times \square = \square$ の空欄に数を入れさせる。答えの欄に数を入れられない子には、五の段の九九のページを開けさせ、 5×3 のところを見つけさせる。

(8) ②以降の問題も同様の方法で指導する。

② 掛け算を適用する「場面」と「言葉」と「式」の結びつきを強固なものにさせる。

(1) 問題文「えをみてもんだいとしきとこたえをかきましょう。」を読ませる。

(2) ①を指して、「2個ずつ5皿分ありますね。」と答えを言ってしまう。

(3) 「あっ!先生、答えを言っちゃった。でも、聞いていなかったね。」と言って、「A個ずつB皿分でC個」の言い方を思い出させる。

(4) ①の問題の空欄に「ずつ」と「で」を書き入れさせる。

2こ \square ずつ5さらぶん \square でりんごはいくつになりますか。

(5) 式と答えを書くように言う。書けなかったら、①の(5)～(7)の方法でサポートする。

(6) ②～⑥の問題も同様の方法で進める。



8課

Unidade 8

ようごとぶん

Vocabulários e frases

ようご	Vocabulários
こども	Criança
にん	Sufixo usado para contar pessoas
テープ	Fita, tira
ながさ	Comprimento
たかさ	Altura
おりがみ	Papel para dobradura, origami
くばる	Distribuir
いる	Precisar

ぶん	Frases
こどもは なんにんに なりますか。	Quantas crianças serão? (usa-se "nin" para contar pessoas)
4 cmの テープが 3つぶんで ながさは なんcmに なりますか。	Temos três partes da fita de 4 cm. Se juntar todas, quantos centímetros dará?
ながさは なんcmに なりますか。	Terá quantos centímetros de comprimento?
たかさは なんcmに なりますか。	Terá quantos centímetros de altura?
おりがみを ひとりに 8まいずつ 6にんに くばりました。	Distribuí 8 folhas de papel para dobradura para cada uma das 6 pessoas.
みかんは なんこ いらいますか。	Quantas tangerinas / mexericas você precisa?

(注) 塗り潰し部分は「ものの数え方」に関する日本語です。

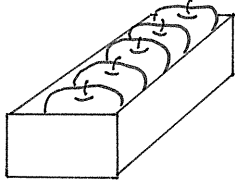
8

3はこぶんでいくつになりますか。

乗法の文章題に慣れる

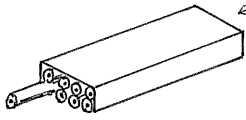
1

①



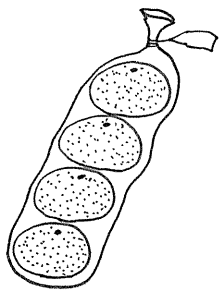
これが3はこぶんで
りんごはいくつになりますか。

②




これが4はこぶんで
えんぴつはなんぼんになりますか。

③



これが5ふくろぶんで
みかんはいくつになりますか。


④



ふたりずつ6くみで
こどもはなんにんになりますか。

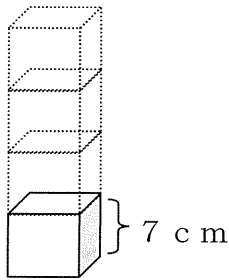
⑤

4 cm のテープ 3 つぶんで
ながさはなん cm になりますか。




⑥


7 cm の つみき 4 こぶんで
たかさはなん cm になりますか。



⑦ おりがみをひとりに 8 まいずつ 6 にんにくばり
ました。ぜんぶでなんまいくばりましたか。



⑧ みかんをひとりに 1 つずつ 9 にんにくばります。
みかんはいくつ いますか。



えをみて もんだいと しきと こたえをかきましょう。

① 2つ 5さら


りんごはいくつになりますか。



しき

こたえ

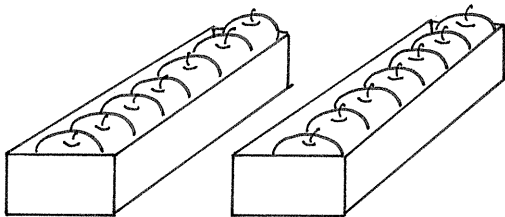
②



しき

こたえ

③



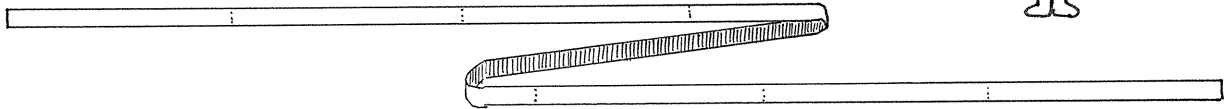
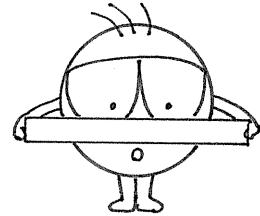
しき

こたえ

④ 3 cmのテープ 8つ

--	--	--

ながさはなんcmになりますか。

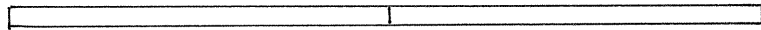



しき

こたえ

⑤ 5 cmの

ながさは



しき


こたえ

⑥ みかんをひとりに

1	つ		
---	---	--	--

に	ん	に
---	---	---

くばります。みかんは いくつ いきますか。



しき

こたえ