



たりません  
なんこたりませんか

Faltar, não ser suficiente  
Quantos faltam?

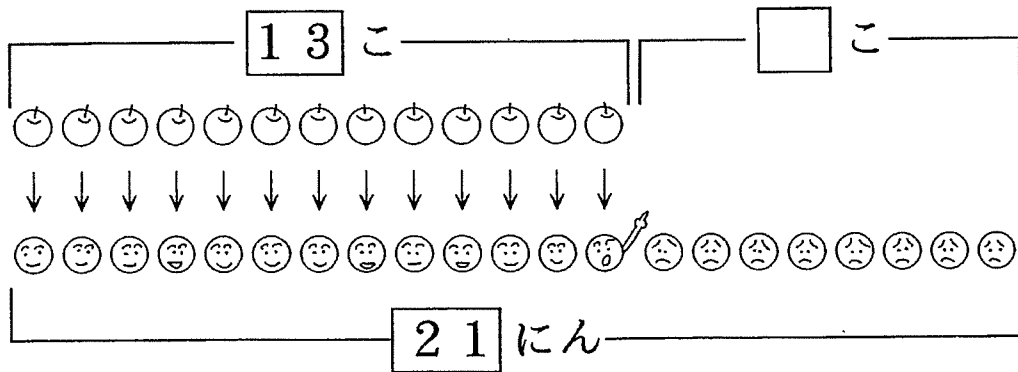

20

# いくつ たりませんか。

2つの数量の対応から「不足」を求める減法

1

りんごが 13 こあります。こどもは 21 にんいます。  
1 こずつくばると、りんごは なんこ たりませんか。



しき  $21 - 13 = 8$

ひっさん

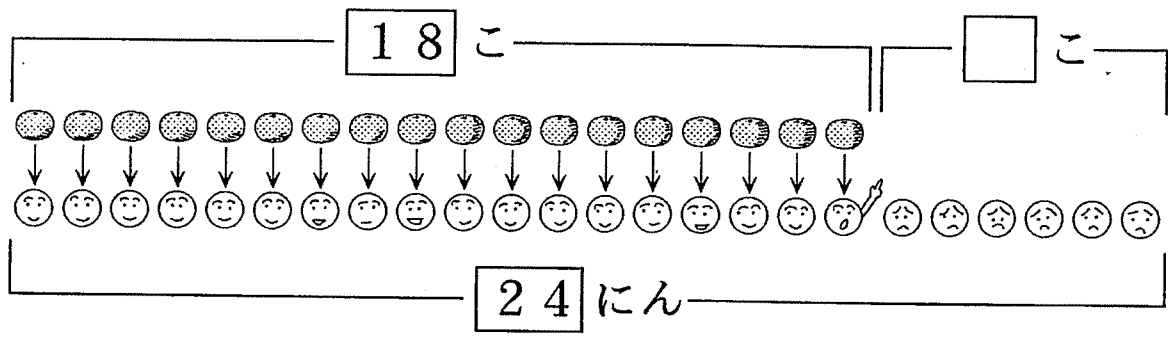
2	1
1	3
—	
	8

こたえ 8 こ



2

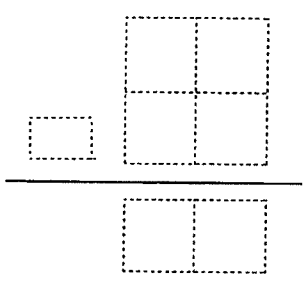
(1) みかんが 18こあります。こどもは 24にんいます。1こずつくばると、みかんは なんこたりませんか。



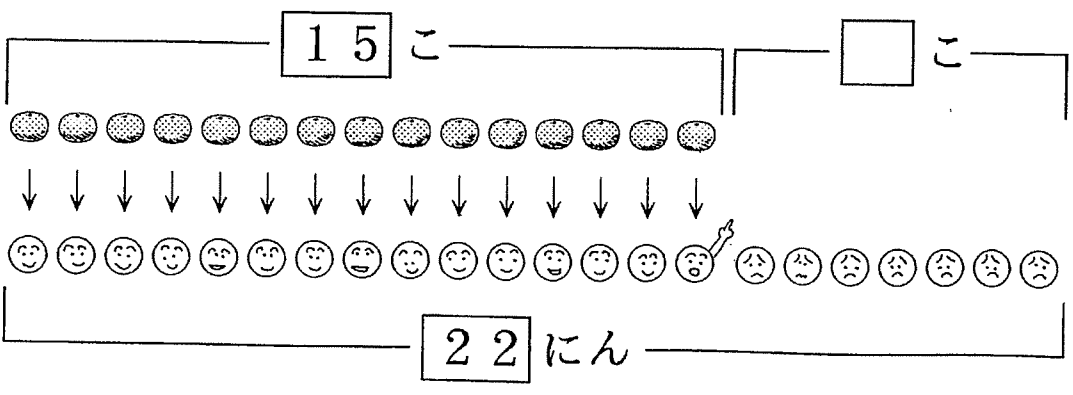
しき

ひっさん

こたえ

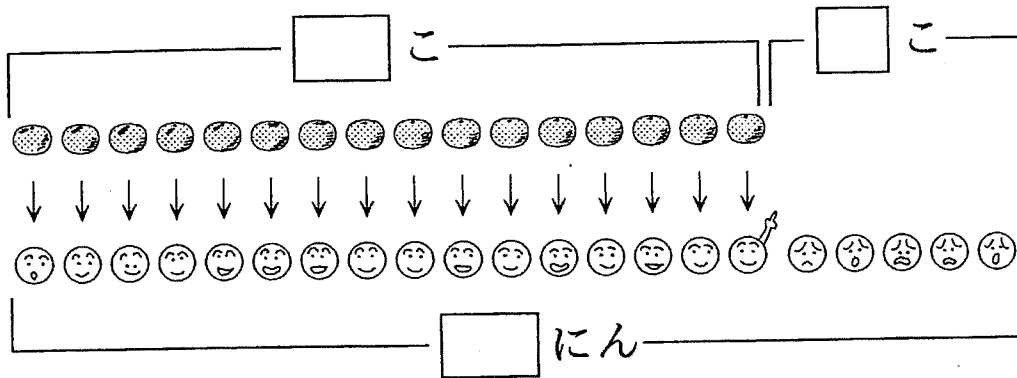


(2) みかんが 15こあります。こどもは 22にんいます。1こずつくばると、みかんは なんこたりませんか。

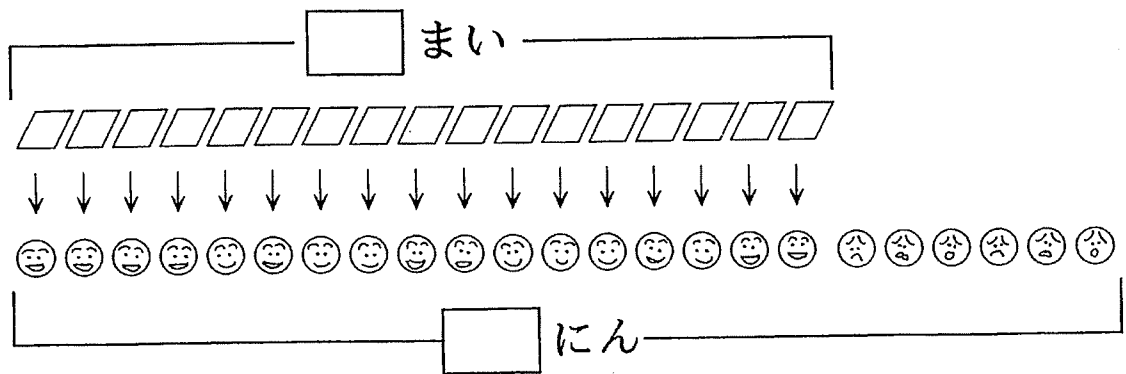


3

(1) みかんが 16 こあります。こどもは 21 にんいます。1 こずつくばると、みかんはなんこたりませんか。



(2) いろがみが 17 まいあります。こどもは 23 にんいます。1 まいずつくばると、いろがみはなんまいたりませんか。



(3) いすが 23 あります。こどもは 31 にんいます。ひとりずつすわると、いすはいくつたりませんか。