

## 指導ポイント&ヒント

### 第7課 「ぶんしょうだい②」

【指導内容】 ①包含除の文章題のパターン

【日本語】 ①A本のBを C本ずつ分けると、何人に分けられるか。  
 ②A個のBを C個ずつ Dに分けると、いくつのDに分けられるか。

【概念図】

1 「何人分」あるかを求める問題（包含除）を復習する。

「24本の鉛筆を 6本ずつ分けると、何人に分けられますか。」

2 分ける物を「折り紙」に変えて、包含除の問題の復習をする。

「24枚の折り紙を 3枚ずつ配ると、何人に分けられますか。」

3 分ける物を「縄」に変えて、包含除の問題の復習をする。

「18mの縄を 3mずつ切ると、何人に分けられますか。」

4 「何人に」から「何本のテープに」に表現が変わった問題を解く。

「12cmのテープを 3cmずつ切ると、何本のテープに分けられますか。」

5 前の問題と同じ文型を使い、数だけを変えた問題を解く。

「12cmのテープを 4cmずつ切ると、何本のテープに分けられますか。」

6 前の問題と同じ文型を使い、物と数を変えた問題を解く。

「48cmのひもを 8cmずつ切ると、何本のひもに分けられますか。」

7 前の問題と少し違う文型を使い、物と数を変えた問題を解く。

「28個のボールを 7個ずつかごに分けると、いくつのかごに分けられますか。」  
 ↳ ここに「かご」という1語が加わった。

8 前の問題と少し違う文型を使い、物と数を変えた問題を解く。

「20人を 4人ずつの班に分けると、いくつの班に分けられますか。」  
 ↳ ここに「の」という1語が加わった。

9 前の問題と同じ文型を使い、数を変えた問題を解く。

「20人を 5人ずつの班に分けると、いくつの班に分けられますか。」



7課                      Unidade 7  
ようごとぶん        Vocabulários e frases

ようご	Vocabulários
おりがみ	Papel para dobradura, <i>origami</i>
なわ	Corda
きる	Cortar
テープ	Fita, tira
ひも	Cordão, barbante
ボール	Bola
かご	Cesto
はん	Grupo
いくつ	Quanto, quantos, quantas

ぶん	Frases
18mの なわを 3mずつ きると、	Se cortar 18m de corda em pedaços de 3m,...
いくつの はんに わけられますか。	Em quantos grupos poderá dividi-las?


# 7 ぶんしょうだい②

「包含除」の文章題

1

「何人に分けられるか」の問題①

24ほんのえんぴつを 6ほんずつ わけると、  
なんにんに わけられますか。



24ほん わけます 6ほんずつ → なんにん？

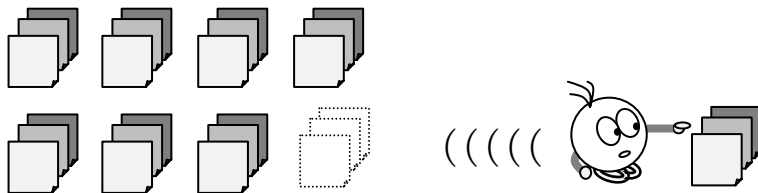
(しき)  ÷  =

(こたえ)  にん

2

「何人に分けられるか」の問題②

24まいの おりがみを 3まいずつ くばると、  
なんにんに わけられますか。



(しき)  ÷  =

(こたえ)  にん

3

18mのなわを3mずつきると、  
なんにんにわけられますか。



(しき)

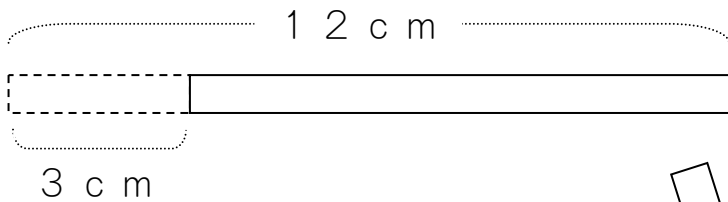
□ □ □ = □

(こたえ)



□

4

12cmのテープを3cmずつきると、  
なんぼんのテープにわけられますか。



3cm



12cm

わけます

3cmずつ



なんぼん?

(しき)


□ ÷ □ = □

(こたえ)

ほん

5

12 cmのテープを 4 cmずつ きると、  
 なんぼんの テープに わけられますか。



(しき)   $\div$   =

(こたえ)

6

48 cmのひもを 8 cmずつ きると、  
 なんぼんの ひもに わけられますか。



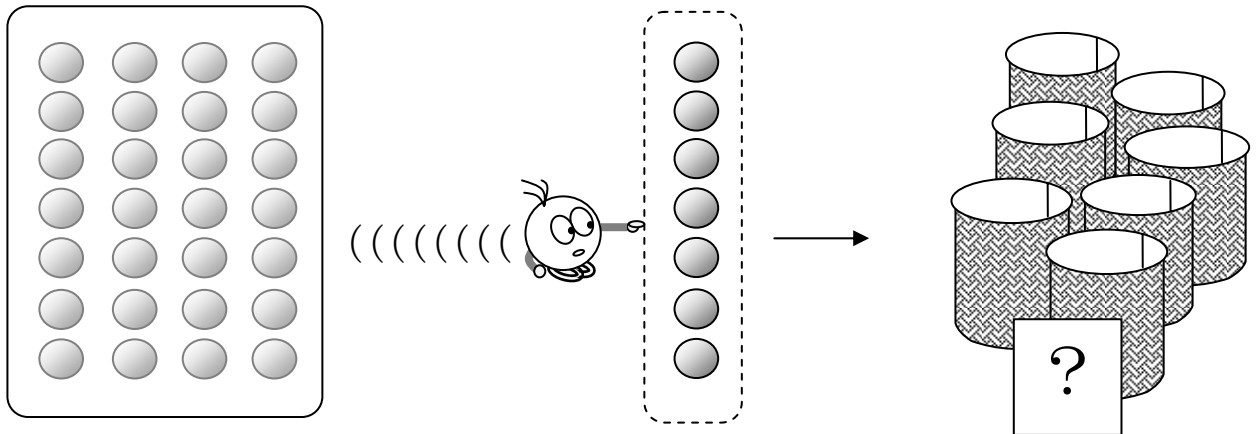
(しき)   $\div$   =

(こたえ)

7

28この ボールを 7こずつ かごに わけると、  
いくつの かごに わけられますか。

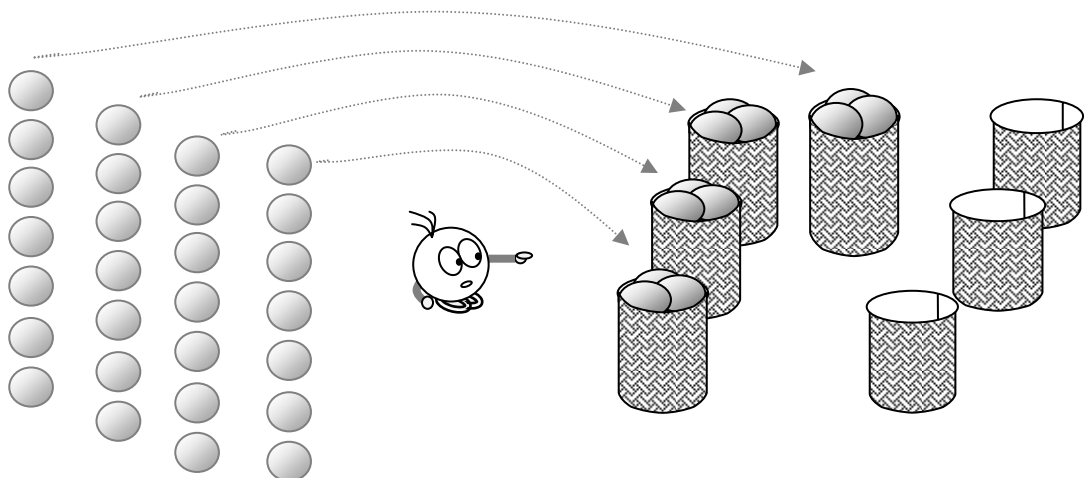
① えをみて、しきをつくりましょう。



28こ      わけます      7こずつ      →      いくつ?

(しき)  ÷  =

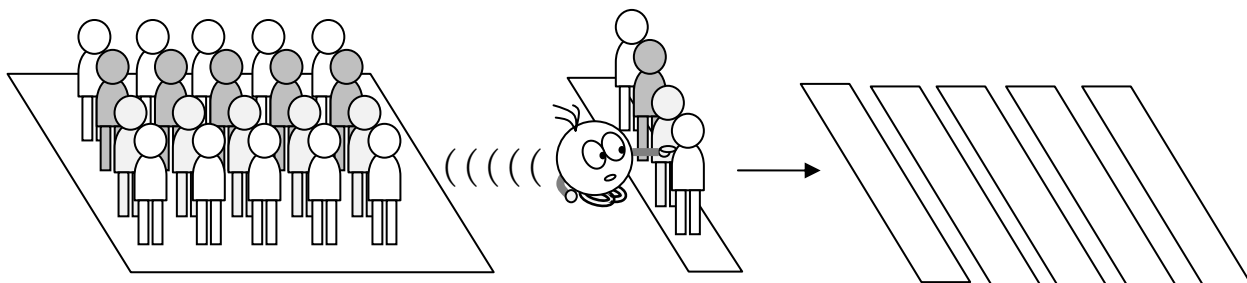
② いくつの かごに わけられますか。



(こたえ)

8

20にんを 4にんずつの はんに わけると、  
いくつの はんに わけられますか。



20にん    わけます    4にんずつ →    いくつの はん？

(しき)   $\div$   =

(こたえ)

9

20にんを 5にんずつの はんに わけると、  
いくつの はんに わけられますか。

20にん    わけます    5にんずつ →    いくつの はん？

(しき)   $\div$   =

(こたえ)