



8課/Lesson 8/Leksyon 8

ようごとぶん / Words and phrases / Mga Salita

| ようご | Words | Mga salita |
|----------|-------------------------------------|--|
| ほん、ぼん、ぼん | (counter for the number of sticks) | piraso (ng mahahabang bagay) |
| こども | child/children | bata |
| にん | (counter for the number of persons) | (Ginagamit na pambilang kung ilang tao.) |
| テープ | tape; ribbon | teyp |
| ながさ | length | haba |
| たかさ | height | taas |
| おりがみ | origami paper | origami |
| くばる | give out; distribute | ipamimigay; ibabahagi |
| いる | need | kailangan |

| ぶん | Phrases | Grupo ng mga salita |
|------------------------------------|---|--|
| えんぴつは なんぼんになりますか。 | How many pencils will be there? | magiging ilang lapis? |
| こどもは なんにんになりますか。 | How many children will be there? | Magiging ilan lahat ang mga bata? |
| 4 cmの テープが 3つぶんで ながさは なんcmに なりますか。 | 3 measures of 4-cm tape will be how long? | 3 beses ang haba ng 4cm na teyp ay Gaano kahaba ? |
| ながさは なんcmに なりますか。 | How long will it be? | Magiging gaano kahaba ito? |
| たかさは なんcmに なりますか。 | How tall/high will it be? | Magiging gaano kataas ito? |
| おりがみを ひとりに 8まいずつ 6にんに くばりました。 | We gave out 8 pieces of origami paper each to 6 people. | Tig-8 piraso ng origami ang ipinamigay sa 6 katao. |
| みかんは なんこ いますか。 | How many oranges do we need? | Ilang dalandan ang kailangan natin? |

(注) 塗り潰しの部分は「ものの数え方」に関する日本語です。

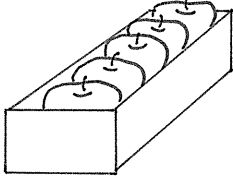
8

3はこぶんでいくつになりますか。

乗法の文章題に慣れる

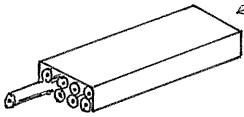
1

①



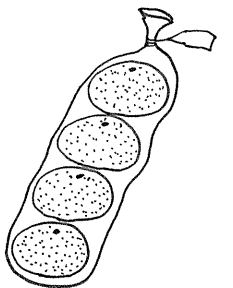
これが3はこぶんで
りんごはいくつになりますか。

②




これが4はこぶんで
えんぴつはなんぼんになりますか。

③



これが5ふくろぶんで
みかんはいくつになりますか。


④



ふたりずつ6くみで
こどもはなんにんになりますか。

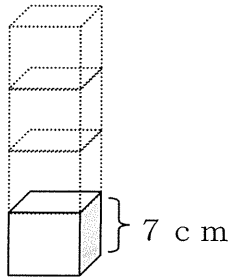
⑤

4 cm のテープ 3 つぶんで
ながさはなん cm になりますか。




⑥


7 cm の積みき 4 こぶんで
たかさはなん cm になりますか。



⑦ おりがみをひとりに 8 まいずつ 6 にんにくばり
ました。ぜんぶでなんまいくばりましたか。



⑧ みかんをひとりに 1 っずつ 9 にんにくばります。
みかんはいくつ いきますか。



えをみて もんだいと しきと こたえをかきましょう。

① 2つ 5さら


りんごはいくつになりますか。



しき

こたえ

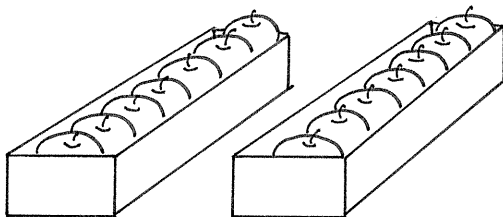
②



しき

こたえ

③

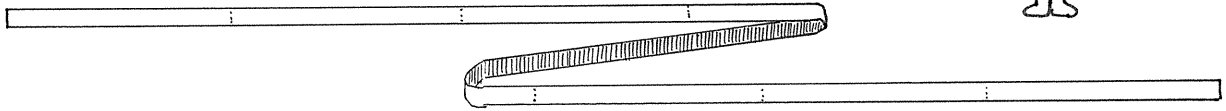
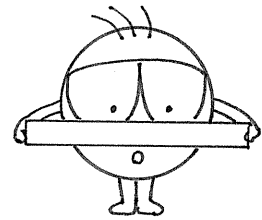


しき

こたえ

④ 3 cmのテープ 8つ

ながさはなんcmになりますか。

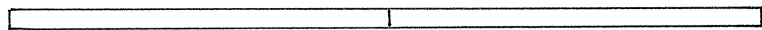



しき

こたえ

⑤ 5 cmの

ながさは




しき

こたえ

⑥ みかんをひとりに 1 つ にんに

くばります。みかんは いくつ いきますか。



しき

こたえ