



7課 / Lesson 7 / Leksyon 7

ようごとぶん / Words and phrases / Mga Salita

ようご	Words	Mga salita
おりがみ	origami paper	origami
なわ	rope	lubid
きる	to cut into	gupitin / putulin
テープ	tape / ribbon	teyp
ひも	string / cord	tali
ボール	ball	bola
かご	basket / cage / box	lalagyan / basket / hawla
はん	group	grupo / pangkat
いくつ	how many	ilan

ぶん	Phrases	Grupo ng mga salita
18mの なわを 3mずつ きると、	If you cut the rope with 18cm long into 3m each,	Kapag pinutol ang lubid na may habang 18cm ng tig 3cm bawat isa,
いくつの はん にわけられますか。	Into how many groups can they be divided?	Sa ilang pangkat mapaghahati??


7 ぶんしょうだい②

「包含除」の文章題

1

「何人に分けられるか」の問題①

24ほんのえんぴつを 6ほんずつ わけると、
なんにんに わけられますか。



24ほん わけます 6ほんずつ → なんにん？

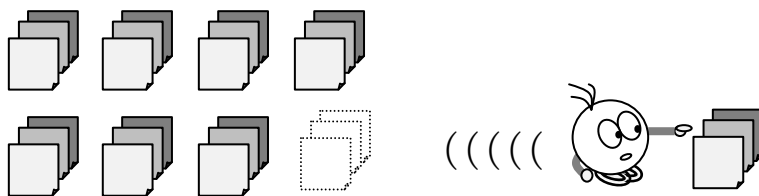
(しき) ÷ =

(こたえ) にん

2

「何人に分けられるか」の問題②

24まいの おりがみを 3まいずつ くばると、
なんにんに わけられますか。



(しき) ÷ =

(こたえ) にん

3

18mのなわを3mずつきると、
なんにんにわけられますか。



(しき)

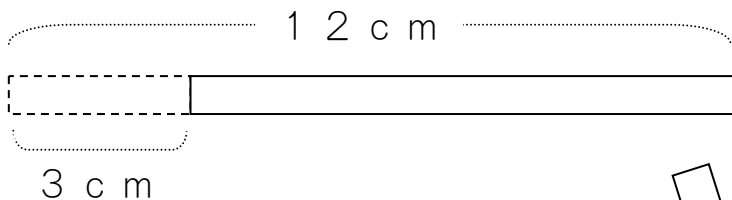
Five dashed boxes for a division problem: $\square \div \square = \square$

(こたえ)




A dashed box for the answer.

4

12cmのテープを3cmずつきると、
なんぼんのテープにわけられますか。



3cm



12cm

わけます

3cmずつ



なんぼん?

(しき)


Five dashed boxes for a division problem: $\square \div \square = \square$

(こたえ)

A dashed box containing the handwritten answer 'ほん'.

5

12 cmのテープを 4 cmずつ きると、
 なんぼんの テープに わけられますか。

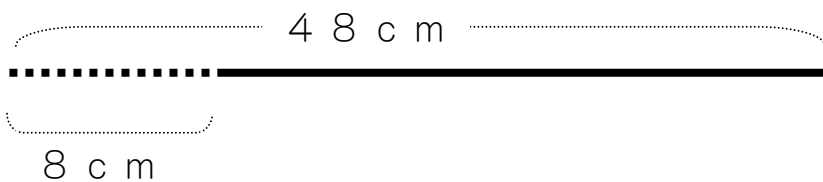


(しき) \div =

(こたえ)

6

48 cmのひもを 8 cmずつ きると、
 なんぼんの ひもに わけられますか。



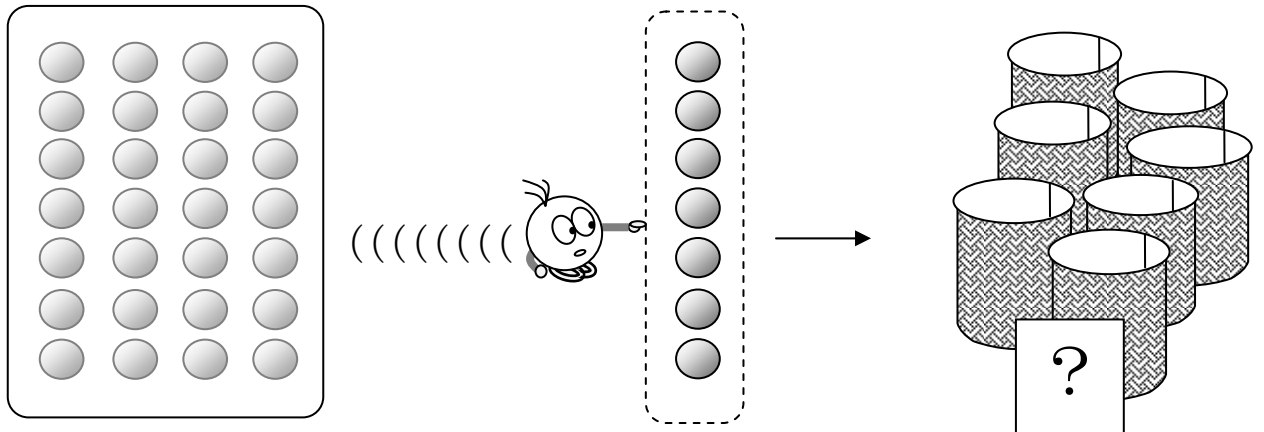
(しき) \div =

(こたえ)

7

28このボールを 7こずつ かごに わけると、
いくつの かごに わけられますか。

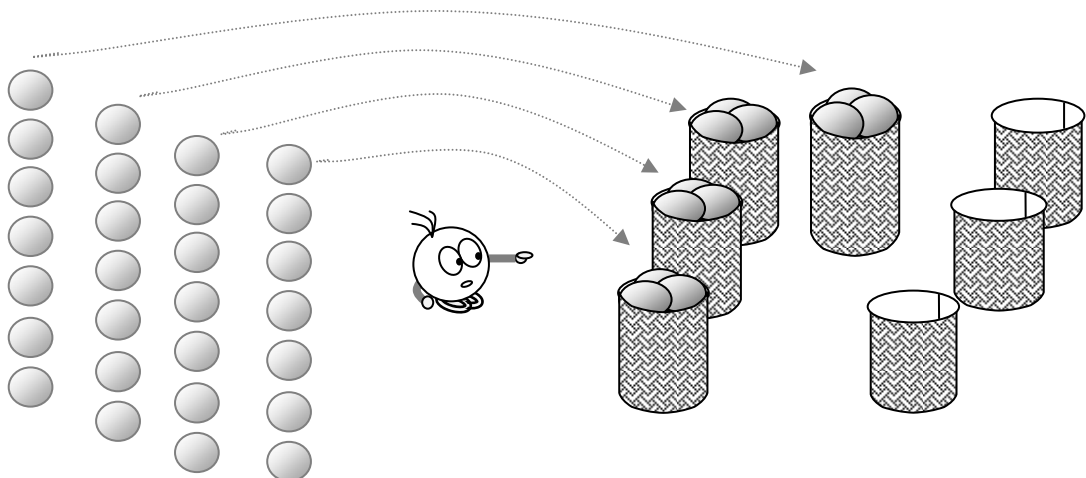
① えをみて、しきをつくりましょう。



28こ わけます 7こずつ → いくつ?

(しき) ÷ =

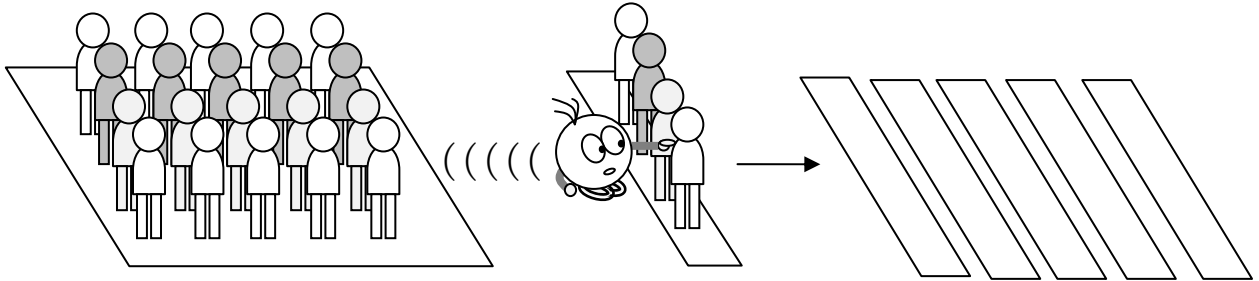
② いくつの かごに わけられますか。



(こたえ)

8

20にんを 4にんずつの はんに わけると、
いくつの はんに わけられますか。



20にん わけます 4にんずつ → いくつの はん？

(しき) ÷ =

(こたえ)

9

20にんを 5にんずつの はんに わけると、
いくつの はんに わけられますか。

20にん わけます 5にんずつ → いくつの はん？

(しき) ÷ =

(こたえ)