

15 たすと ひくと

1

たしざんの ぶん

に を たすと になります。

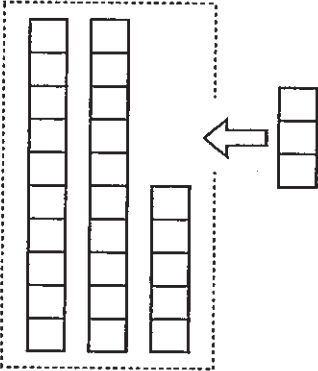


2

(2位数) + (1位数) で繰り上がりのない計算

ぶんと しきを こたえましょう。

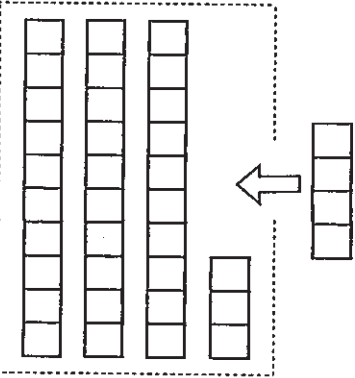
れい



25 に 3 を たすと 28 になります。

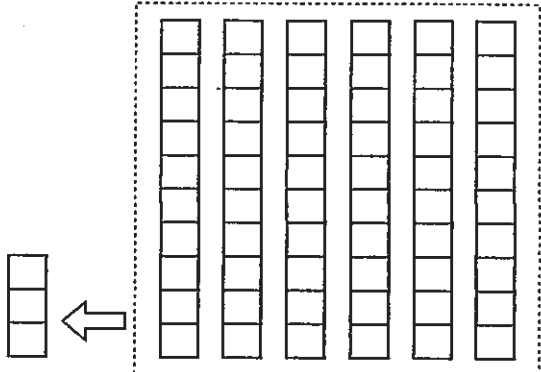
$25 + 3 = 28$

①



+ =

②



+ =

3

ひきざんの ぶん

□ から □ をひくと □ になります。

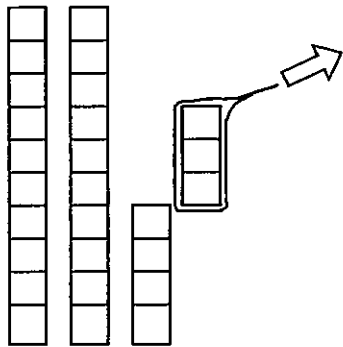


4

(2位数) - (1位数) で繰り下がりのない計算

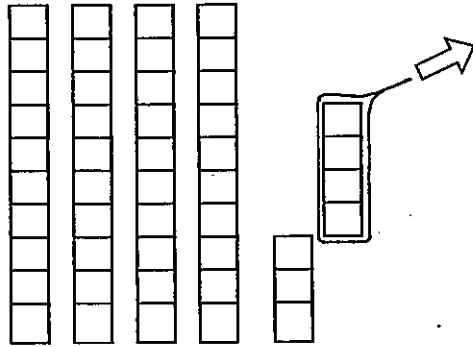
ぶんと しきを こたえましょう。

①



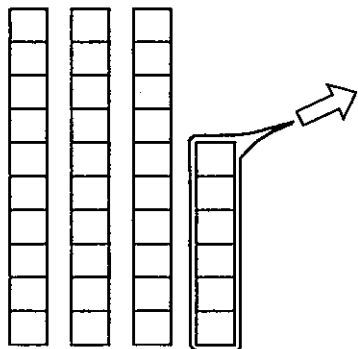
$$\boxed{27} - \boxed{3} = \boxed{24}$$

②



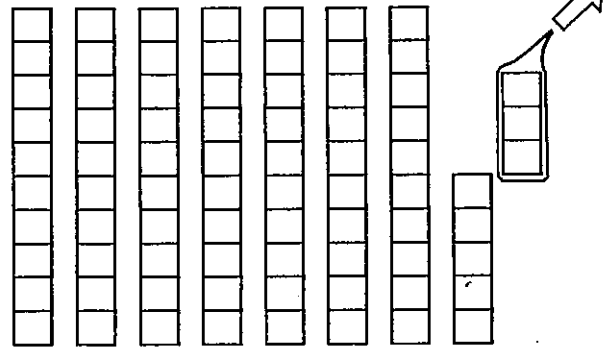
$$\boxed{\quad} - \boxed{\quad} = \boxed{\quad}$$

③



$$\boxed{\quad} - \boxed{\quad} = \boxed{\quad}$$

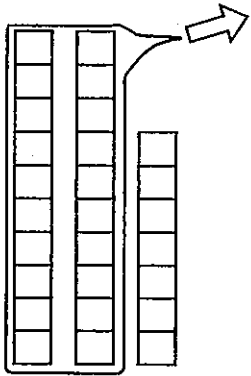
④



$$\boxed{\quad} - \boxed{\quad} = \boxed{\quad}$$

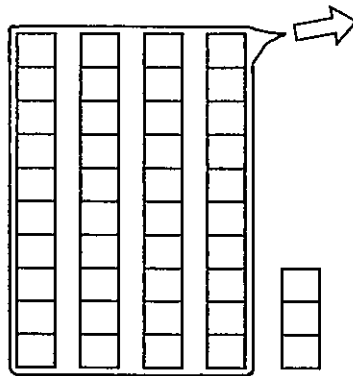
ぶんとしきをこたえましょう。

①




$$\boxed{27} - \boxed{20} = \boxed{7}$$

②



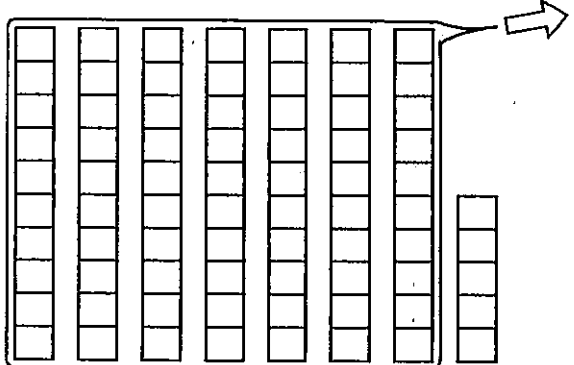
$$\boxed{\quad} - \boxed{\quad} = \boxed{\quad}$$

③



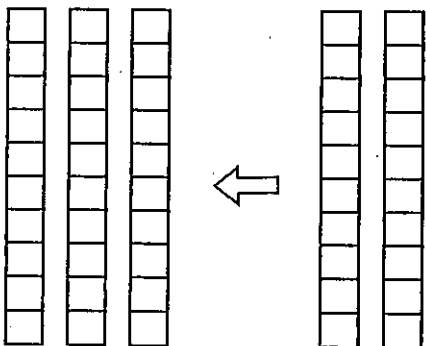
$$\boxed{\quad} - \boxed{\quad} = \boxed{\quad}$$

④



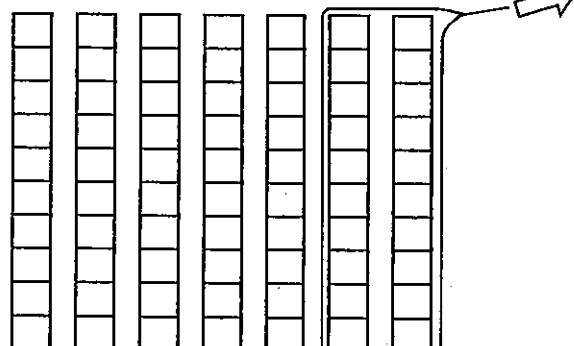
$$\boxed{\quad} - \boxed{\quad} = \boxed{\quad}$$

⑤



$$\boxed{\quad} + \boxed{\quad} = \boxed{\quad}$$

⑥



$$\boxed{\quad} - \boxed{\quad} = \boxed{\quad}$$

6

つぎの ぶんを よんで しきを こたえましょう。

- ① 25に 4を たすと 29に なります。
- ② 34に 5を たすと 39に なります。
- ③ 28から 4を ひくと 24に なります。
- ④ 48から 6を ひくと 42に なります。
- ⑤ 5に 40を たすと 45に なります。
- ⑥ 78から 70を ひくと 8に なります。

7

① 45に 4を たすと いくつに なりますか。

しき

② 75から 4を ひくと いくつに なりますか。

しき

③ 50に 40を たすと いくつに なりますか。

しき