



## 指導ポイント&ヒント

### 27課 十のくらははいまいくつ

【内容】(3位数) — (2位数) で十の位でも百の位でも繰り下がりのある計算

【表現】[ ] の位から1繰り下げて

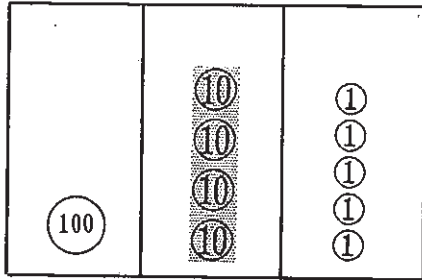
【指導ポイント&ヒント】

- ・ 十の位でも百の位でも繰り下げをしなくてはいけない場面の引き算です。まだまだ難路は続きます。ここでも説明に「お金」を利用して分かりやすくしました。
- ・ 2回繰り下がりがある場合は、1回引き算をしたときに、今、十の位がいくつなのか  
に注意を向けさせることが大切です。十の位から1繰り下げて一の位の計算をした  
あと、十の位が今いくつになっているのかを意識できない子は、次の十の位の引き  
算の場面で、十の位が1小さくなっていることを忘れて計算をしてしまいます。口  
をすっぱくして「十の位は今いくつ？」と尋ねるようにしましょう。

(3位数) - (2位数) で十の位でも百の位でも繰り下がりがある計算

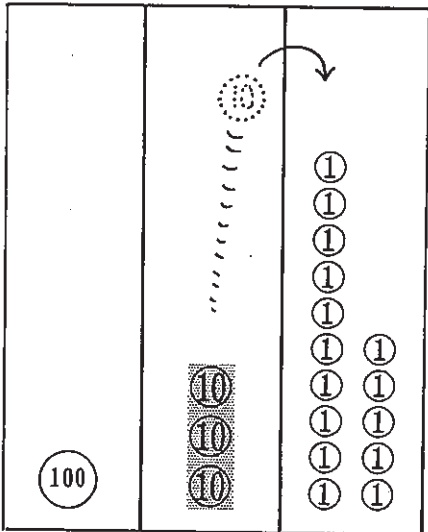
1

145 - 86 の けいさんをしましょう。



① 一のくらのけいさん

から  はひけないから、



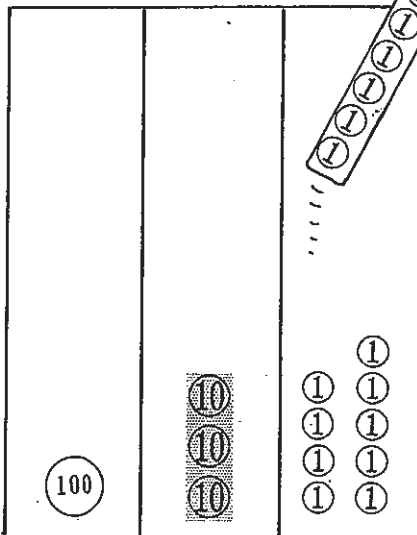
十のくらいから

1 くりさげて 。

$$\begin{array}{r} 145 \\ - 86 \\ \hline \end{array}$$

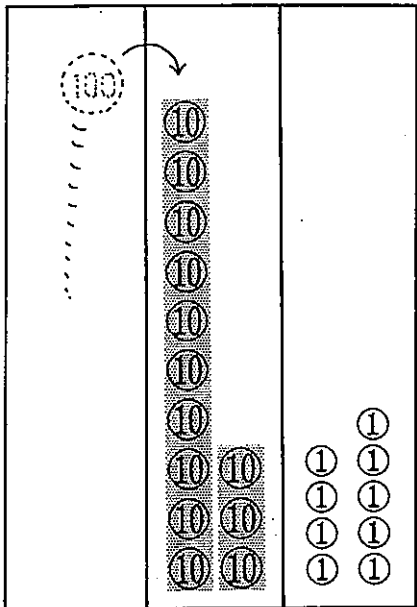

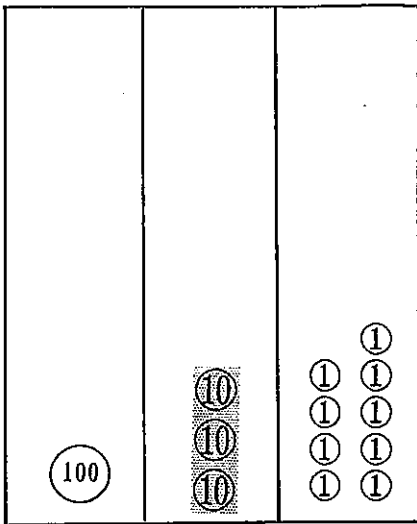


-  =



## ② 十のくらのけいさん

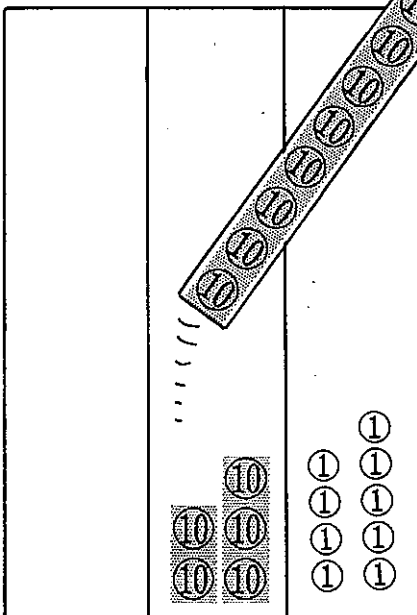
十のくらは いま いくつですか。



□ から □ は ひけないから、  
百のくらいから  
1 くりさげて □。



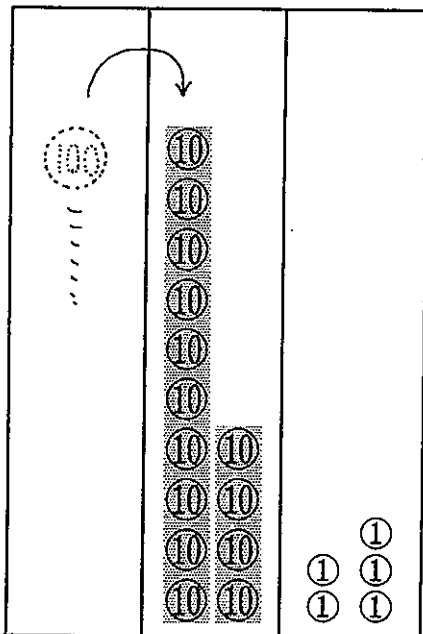
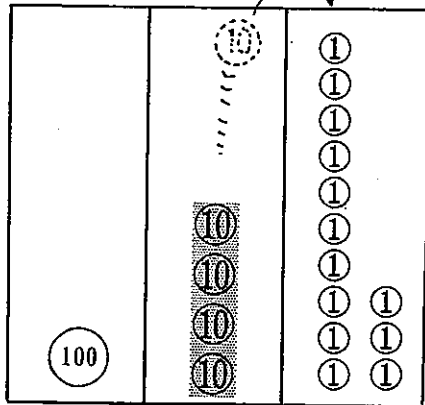
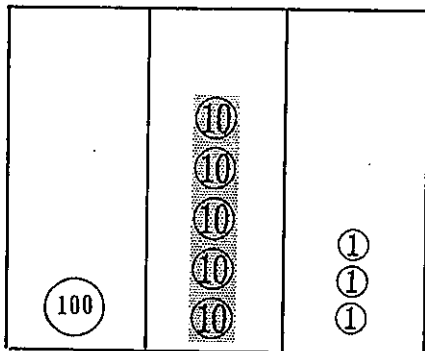
$$\begin{array}{r} \cancel{1}45 \\ - 86 \\ \hline 59 \end{array}$$



$$\square - \square = \square$$

$$145 - 86 = 59$$

153 - 78 の けいさんをしましょう。



① 一のくらのいの けいさん

□ から □ は ひけないから、  
十のくらいから  
1 くりさげて □ 。

$$\begin{array}{r} 153 \\ - 78 \\ \hline \end{array}$$

□ - □ = □

② 十のくらのいの けいさん

十のくらは いま □ 。

□ から □ は ひけないから、  
百のくらいから  
1 くりさげて □ 。

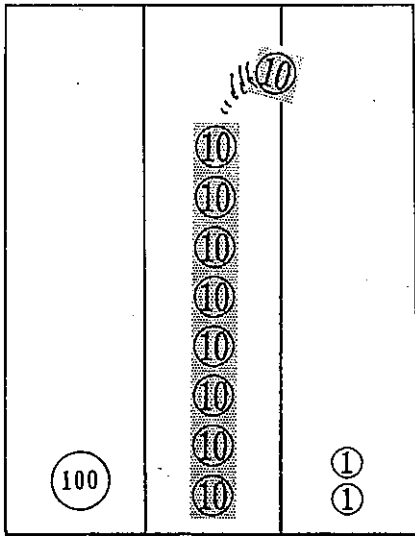
$$\begin{array}{r} 153 \\ - 78 \\ \hline \end{array}$$

□ - □ = □

153 - 78 = □

3

192 - 97 の けいさんをしましょう。

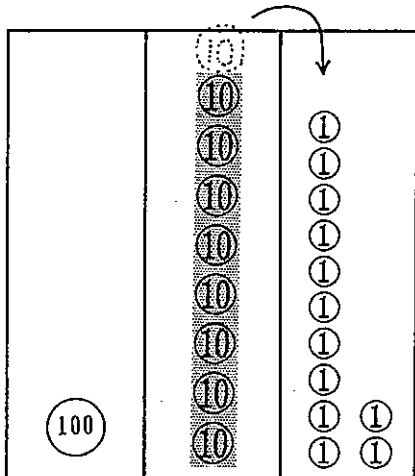


① 一のくらいのけいさん

□ から □ はひけないから、  
十のくらいから  
1 くりさげて □ 。

$$\begin{array}{r} 192 \\ - 97 \\ \hline \end{array}$$

□ - □ = □



② 十のくらいのけいさん

十のくらいは いま □ 。

□ から □ はひけないから、

百のくらいから  
1 くりさげて □ 。

$$\begin{array}{r} 192 \\ - 97 \\ \hline 5 \end{array}$$

□ - □ = □

192 - 97 = □

