



9課
ようごとぶん

Unidad 9
Palabra y Frase

ようご	Palabra
なんばい	cuántas veces
3ばい	tres veces / el triple
もつ	tener
はがき	postal
ミニカー	mini carro
だい	sufijo usado para contar máquinas, como carros, etc.
にじゅうとび	Salto doble de cuerda. Es una técnica de salto en la que se mueve rápido la cuerda para dar dos vueltas.
かい	veces
リボン	cinta / moño

ぶん	Frase
おとうとはわたしのなんばい (のクッキーを) もっていますか。	¿Cuántas veces más galletas tiene mi hermano menor?
いもうとはわたしの3ばい (のクッキーを) もっています。	Mi hermana menor tiene tres veces más (el triple de) galletas que yo.
おにいさんはミニカーを24だい もっています。	Mi hermano mayor tiene 24 mini carros.
おにいさんはにじゅうとびが36かい できます。	Mi hermano mayor puede hacer 36 saltos dobles (nijutobi).

(注) 塗り潰し部分は「ものの数え方」に関する日本語です。

9

なんばい①

元の数の何倍かを割り算で求める方法

1

「A倍」の概念を思い出す①

わたしは クッキーを 4こ もっています。


いもうとは わたしの 3ばい もっています。

いもうとは クッキーを なんこ もっていますか。


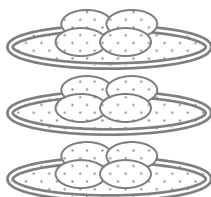
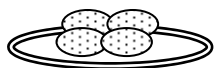
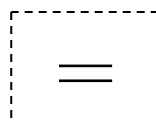
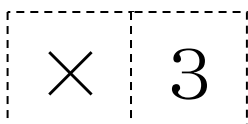


わたしは 4こ

わたしの 3ばい



いもうとは こ



2

「A倍」の概念を思い出す②


おにいさんは わたしの 4ばい もっています。

おにいさんは なんこ もっていますか。


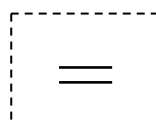
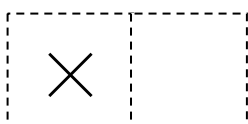


わたしは 4こ

わたしの 4ばい



おにいさんは こ



「何倍か」を求めるのに割り算を使えることを知る。

3

おとうとは 20こ もっています。

おとうとは わたしの なんばい もっていますか。



わたしは4こ わたしの ばい → おとうとは20こ


4

×

=

20

あれ？ かけざんでは こたえが でませんね。



かけざんを はんたいに すると、
わりざんに なったのを おぼえていますか。




おとうどの かずを わります わたしの かずで すると → なんばいか わかります

20

÷

4

=

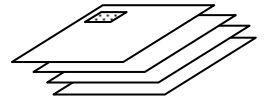


「何倍か」を求めるのに割り算に慣れる。

4

おとうさんは はがきを 24まい もっています。

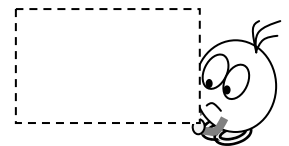
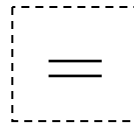

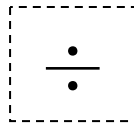

わたしは 4まい もっています。



おとうさんは わたしの なんばい はがきを もっていますか。



おとうさんの かすを	わります □□□	わたしの かすで	すると →	なんばいか わかります
---------------	-------------	-------------	----------	----------------

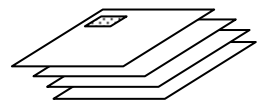


5

「何倍か」を求めるのに割り算に慣れる②


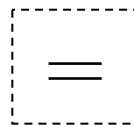

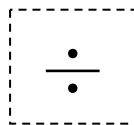

おかあさんは はがきを 28まい もっています。

わたしは 4まい もっています。



おかあさんは わたしの なんばい はがきを もっていますか。

おかあさんの かすを	わります □□□	わたしの かすで	すると →	なんばいか わかります
---------------	-------------	-------------	----------	----------------

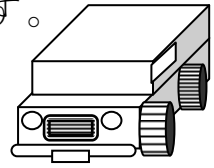


6


おにいさんは ミニカーを 24だい もっています。

ぼくは 8だい もっています。

おにいさんは ぼくの なんばい もっていますか。



□□□□□の かすを	わります □□□□	□□の かすで	すると →	なんばいか わかります
	÷		=	




7


おにいさんは にじゅうとびが 36かい できます。

ぼくは 9かい できます。

おにいさんは ぼくの なんばい できますか。



□□□□□の かすを	わります □□□□	□□の かすで	すると →	なんばいか わかります
	÷		=	



8

おねえさんは にじゅうとびが 32かい できます。

わたしは 4かい できます。

おねえさんは わたしの なんばい できますか。



□ □ □ = □

□ ばい


9

おねえさんのリボンは 40cmです。

わたしのは 8cmです。



おねえさんのリボンは わたしの なんばい ですか。



□ □ □ □ □

□ ばい